

**ВСЕРОССИЙСКАЯ ОЛИМПИАДА ШКОЛЬНИКОВ
ОБЩЕСТВОЗНАНИЕ
2017–2018 УЧЕБНЫЙ ГОД
ШКОЛЬНЫЙ ЭТАП
8 КЛАСС**

Время на выполнение работы 60 минут.

1. «Да» или «нет»? Если вы согласны с утверждением напишите «Да», если не согласны напишите «Нет». Внесите свои ответы в таблицу.

- 1) Ограниченность экономических ресурсов на планете порождает необходимость решения человеком проблемы их рационального использования.
- 2) Взаимодействие отдельных людей, социальных групп образует социальную структуру общества.
- 3) В современном мире растет число разводов.
- 4) Основным мотивом, побуждающим человека к деятельности, является его желание удовлетворить свои потребности.
- 5) Россия является парламентской республикой.

1	2	3	4	5
Да	да	нет	да	да

65

2. Выберите несколько верных ответов в каждом задании и занесите свой ответ в таблицу.

2.1. С повышением социального статуса у индивида неизбежно возрастает количество

- 1) прав
- 2) знаний
- 3) учеников
- 4) обязанностей
- 5) свободного времени

2.2. Что из перечисленного характеризует традиционное общество?

- а) производство ориентировано не на объёмы, а на качество продукции, на потребителя;
- б) семья является основной производственной ячейкой общества;
- в) большинство населения занято в промышленном производстве;
- г) широкое применение механизмов, облегчающих труд;
- д) в центре социальной организации находятся церковь и армия;
- е) природные факторы в большей степени влияют на развитие экономики

05

2.3. Ниже перечислены слова, образованные от латинского корня. Укажите слово, которое для римлян и для писавших на латыни имело значение, близкое по смыслу к современному понятию «культура».

- а) цивилизация;
- б) гуманизм;
- в) публичность;
- г) полиция.

2.1.	2.2.	2.3.
4	а	а

Установите соответствие между видами деятельности человека и особенностями проявления их видов деятельности. Внеси свои ответы в таблицу.

Вид деятельности

Особенности проявления вида деятельности

- А) игра
- Б) труд

- 1) наличие воображаемой обстановки
- 2) ориентация на удовлетворение материальных потребностей
- 3) условный характер
- 4) использование инструментов

НБ

А	Б
1;3	2;4

4. Распределите следующие термины по двум колонкам таблицы. В первую поместите явления, принадлежащие природе, а во вторую — явления человеческой культуры.

- 1) Река; 2) Стон; 3) Аромат; 4) Канал; 5) Запах; 6) Наконечник стрелы; 7) Слово; 8) Кусок кварца.

Явления природы	Явления культуры
1); 5); 8)	2); 3); 4); 6); 7)

дб

5. Заполните пропуски слов в тексте. Нужные слова даются в приведенном ниже списке. Будьте внимательны: в списке могут быть лишние слова.

Всем живым существам присуща (1) активность. У животных и человека она проявляется в определенном (2) поведении. Поведение животных основано на (3) инстинкте. Поведение человека, в отличие от животного, основано на разуме, а потому является (4) самостоятельным. Оно может направляться как другими людьми так и самим человеком. В основе поведения человека, направленного на достижение цели, всегда лежит определенный (5) мотив. Сознательное действие человека в отношении других людей, связанное с его моральным выбором, называется (6) волевым. Свободный выбор сложен, потому что связан с несением (7) ответственности.

дб

Слова: волевой, произвольный, активность, поведение, инстинкт, произвольный, агрессивный, мотив, ответственность, поступок, эффективный, самостоятельный.

6. Решите правовую задачу.

Петров Иван 12 лет, находящийся под опекой своего дяди гражданина Устинова, совершил кражу личных вещей на сумму 300 рублей у соседки по коммунальной квартире Меркушиной. Вещи продал, а деньги израсходовал. Потерпевшая Меркушина обратилась в юридическую консультацию за советом, кто и в каком размере должен возместить ей причиненный ущерб. Какой ответ должны дать Меркушиной?

Петров Иван должен возместить ей причиненный ущерб, но так как он несовершеннолетний, это должен сделать опекунский его гражданин Устинов.

дб

7. Решите логическую задачу.

В одном храме было три внешне одинаковых бога: бог Правды, который никогда не лгал, бог лжи. Который никогда не говорил правду, и бог Дипломатии, который мог как сказать правду, так и солгать. Как узнать кто из них кто? Один человек сделал это так.

- «Кто стоит рядом с тобой?»- спросил он у бога слева. «Бог Правды».
- «А кто ты?»- спросил он у среднего бога. «Бог Дипломатии».
- «А кто стоит рядом с тобой?»- спросил он бога справа. «Бог Лжи».
- «Тогда все понятно», - сказал человек.


08-10

же понял этот человек из ответов богов?

Слева стоит "Бог Травы". Посередине стоит "Бог Жив".
Справа стоит "Бог Демонии".

35

8. Решите кроссворд.



75

По горизонтали:

1. Процесс приобретения знаний о мире, приобщения к культуре, к ценностям человеческого общества.
3. Человек как социальное существо с присущими ему чертами и отношениями, проявляющиеся в системе общественных взаимоотношений.
5. Предоставление денег или товаров в долг на определенный срок, как правило, с уплатой процентов, на условиях возвратности.
9. Высший орган исполнительной власти в стране.
10. Место купли-продажи товаров и услуг или совокупность экономических отношений, проявляющихся в сфере обмена товаров и услуг.

По вертикали:

2. Внешние формы поведения человека, получающие положительную или отрицательную оценку окружающих.
4. Сочетание устойчивых черт, особенностей личности, определяющих поведение человека.
6. Финансовый документ, составляемый в виде баланса доходов и расходов государства.
7. Необходимое для жизни человека, нужда в чем-либо.
8. Устойчивая общность людей, сложившаяся исторически на основе единой этнической судьбы, общности языка, особенностей культуры, чаще всего объединенная общностью территории и экономической жизни.

30
55,7%

08-15
72, 8%

**ВСЕРОССИЙСКАЯ ОЛИМПИАДА ШКОЛЬНИКОВ
ОБЩЕСТВОЗНАНИЕ
2017–2018 УЧЕБНЫЙ ГОД
ШКОЛЬНЫЙ ЭТАП
8 КЛАСС**

Время на выполнение работы 60 минут.

1. «Да» или «нет»? Если вы согласны с утверждением напишите «Да», если не согласны напишите «Нет». Внесите свои ответы в таблицу.

- 1) Ограниченность экономических ресурсов на планете порождает необходимость решения человеком проблемы их рационального использования.
- 2) Взаимодействие отдельных людей, социальных групп образует социальную структуру общества.
- 3) В современном мире растет число разводов.
- 4) Основным мотивом, побуждающим человека к деятельности, является его желание удовлетворить свои потребности.
- 5) Россия является парламентской республикой.

1	2	3	4	5
Да	Нет	Да	Да	Да

65

2. Выберите несколько верных ответов в каждом задании и занесите свой ответ в таблицу.

2.1. С повышением социального статуса у индивида неизбежно возрастает количество

- 1) прав
- 2) знаний
- 3) учеников
- 4) обязанностей
- 5) свободного времени

2.2. Что из перечисленного характеризует традиционное общество?

- а) производство ориентировано не на объёмы, а на качество продукции, на потребителя;
- б) семья является основной производственной ячейкой общества;
- в) большинство населения занято в промышленном производстве;
- г) широкое применение механизмов, облегчающих труд;
- д) в центре социальной организации находятся церковь и армия;
- е) природные факторы в большей степени влияют на развитие экономики

2.3. Ниже перечислены слова, образованные от латинского корня. Укажите слово, которое для римлян и для писавших на латыни имело значение, близкое по смыслу к современному понятию «культура».

- а) цивилизация;
- б) гуманизм;
- в) публичность;
- г) полиция.

45

2.1.	2.2.	2.3.
1, 4	б, в, г	б

Установите соответствие между видами деятельности человека и особенностями проявления этих видов деятельности. Внеси свои ответы в таблицу.

Вид деятельности

- А) игра
Б) труд

Особенности проявления вида деятельности

- 1) наличие воображаемой обстановки
2) ориентация на удовлетворение материальных потребностей
3) условный характер
4) использование инструментов

05

А	Б
1, 4, 3	2, 4

4. Распределите следующие термины по двум колонкам таблицы. В первую поместите явления, принадлежащие природе, а во вторую — явления человеческой культуры.

- 1) Река; 2) Стон; 3) Аромат; 4) Канал; 5) Запах; 6) Наконечник стрелы; 7) Слово; 8) Кусок кварца.

Явления природы	Явления культуры
1), 3), 5), 8)	2), 4), 6), 7)

145

5. Заполните пропуски слов в тексте. Нужные слова даны в приведенном ниже списке. Будьте внимательны: в списке могут быть лишние слова.

Всем живым существам присуща (1) активность. У животных и человека она проявляется в определенном (2) инстинкте. Поведение животных основано на (3) инстинкте. Поведение человека, в отличие от животного, основано на разуме, а потому является (4) произвольным. Оно может направляться как другими людьми так и самим человеком. В основе поведения человека, направленного на достижение цели, всегда лежит определенный (5) поступок. Сознательное действие человека в отношении других людей, связанное с его моральным выбором, называется (6) поведением. Свободный выбор сложен, потому что связан с несением (7) ответственности.

88

Слова: волевой, произвольный, активность, поведение, инстинкт, произвольный, агрессивный, мотив, ответственность, поступок, эффективный, самостоятельный.

6. Решите правовую задачу.

Петров Иван 12 лет, находящийся под опекой своего дяди гражданина Устинова, совершил кражу личных вещей на сумму 300 рублей у соседки по коммунальной квартире Меркушиной. Вещи продал, а деньги израсходовал. Потерпевшая Меркушина обратилась в юридическую консультацию за советом, кто и в каком размере должен возместить ей причиненный ущерб. Какой ответ должны дать Меркушиной?

Гражданин Устинов, т.к. он является опекуном Петрова Ивана, который еще не достиг возраста 14 лет, и он не несет уголовных наказаний. В размере 300 рублей.

7. Решите логическую задачу.

В одном храме было три внешне одинаковых бога: бог Правды, который никогда не лгал, бог лжи. Который никогда не говорил правду, и бог Дипломатии, который мог как сказать правду, так и солгать. Как узнать кто из них кто? Один человек сделал это так.

«Кто стоит рядом с тобой?»- спросил он у бога слева. «Бог Правды».

«А кто ты?»- спросил он у среднего бога. «Бог Дипломатии».


«А кто стоит рядом с тобой?»- спросил он бога справа. «Бог Лжи».

«Тогда все понятно», - сказал человек.

Где же живет тот человек из ответов богов?

Первый Бог - Бог Деметри, Второй - Бог Иова, третий - Бог Травы

Хитрый кроссворд.



95

По горизонтали:

1. Процесс приобретения знаний о мире, приобщения к культуре, к ценностям человеческого общества.
3. Человек как социальное существо с присущими ему чертами и отношениями, проявляющиеся в системе общественных взаимоотношений.
5. Предоставление денег или товаров в долг на определенный срок, как правило, с уплатой процентов, на условиях **возвратности**.
9. Высший орган **исполнительной** власти в стране.
10. Место **купли-продажи** товаров и услуг или совокупность экономических отношений, проявляющихся в сфере обмена товаров и услуг.

По вертикали:

2. Внешние формы поведения человека, получающие **положительную** или отрицательную оценку окружающих.
4. Сочетание устойчивых черт, особенностей **личности**, определяющих поведение человека.
6. Финансовый документ, составляемый в виде **баланса** доходов и расходов государства.
7. Необходимое для жизни человека, нужда в чем-либо.
8. Устойчивая общность людей, сложившаяся исторически на основе единой этнической судьбы, общности языка, особенностей культуры, чаще всего объединенная общностью территории и экономической жизни.

575
72,8%

08-12
87%

**ВСЕРОССИЙСКАЯ ОЛИМПИАДА ШКОЛЬНИКОВ
ОБЩЕСТВОЗНАНИЕ
2017–2018 УЧЕБНЫЙ ГОД
ШКОЛЬНЫЙ ЭТАП
8 КЛАСС**

Время на выполнение работы 60 минут.

1. «Да» или «нет»? Если вы согласны с утверждением напишите «Да», если не согласны напишите «Нет». Внесите свои ответы в таблицу.

- 1) Ограниченность экономических ресурсов на планете порождает необходимость решения человеком проблемы их рационального использования.
- 2) Взаимодействие отдельных людей, социальных групп образует социальную структуру общества.
- 3) В современном мире растет число разводов.
- 4) Основным мотивом, побуждающим человека к деятельности, является его желание удовлетворить свои потребности.
- 5) Россия является парламентской республикой.

1	2	3	4	5
ДА	ДА	Нет	ДА	Нет.

85

2. Выберите несколько верных ответов в каждом задании и занесите свой ответ в таблицу.

2.1. С повышением социального статуса у индивида неизбежно возрастает количество

- 1) прав
- 2) знаний
- 3) учеников
- 4) обязанностей
- 5) свободного времени

2.2. Что из перечисленного характеризует традиционное общество?

- а) производство ориентировано не на объёмы, а на качество продукции, на потребителя;
- б) семья является основной производственной ячейкой общества;
- в) большинство населения занято в промышленном производстве;
- г) широкое применение механизмов, облегчающих труд;
- д) в центре социальной организации находятся церковь и армия;
- е) природные факторы в большей степени влияют на развитие экономики

2.3. Ниже перечислены слова, образованные от латинского корня. Укажите слово, которое для римлян и для писавших на латыни имело значение, близкое по смыслу к современному понятию «культура».

- а) цивилизация;
- б) гуманизм;
- в) публичность;
- г) полиция.

2.1.	2.2.	2.3.
1,4	а, д, е.	а

25

Установите соответствие между видами деятельности человека и особенностями проявления этих видов деятельности. Внеси свои ответы в таблицу.

Вид деятельности

Особенности проявления вида деятельности

- А) игра
- Б) труд

- 1) наличие воображаемой обстановки
- 2) ориентация на удовлетворение материальных потребностей
- 3) условный характер
- 4) использование инструментов

40

А	Б
1, 3	2, 4

4. Распределите следующие термины по двум колонкам таблицы. В первую поместите явления, принадлежащие природе, а во вторую — явления человеческой культуры.

- 1) Река; 2) Стон; 3) Аромат; 4) Канал; 5) Запах; 6) Наконечник стрелы; 7) Слово; 8) Кусок кварца.

Явления природы	Явления культуры
1, 2, 3, 5, 8	4, 6, 7

160

5. Заполните пропуски слов в тексте. Нужные слова даны в приведенном ниже списке. Будьте внимательны: в списке могут быть лишние слова.

Всем живым существам присуща (1) активность. У животных и человека она проявляется в определенном (2) поведении. Поведение животных основано на (3) инстинктах. Поведение человека, в отличие от животного, основано на разуме, а потому является (4) произвольным. Оно может направляться как другими людьми так и самим человеком. В основе поведения человека, направленного на достижение цели, всегда лежит определенный (5) мотив. Сознательное действие человека в отношении других людей, связанное с его моральным выбором, называется (6) поступком. Свободный выбор сложен, потому что связан с несением (7) ответственности.

40

Слова: волевой, произвольный, активность, поведение, инстинкт, произвольный, агрессивный, мотив, ответственность, поступок, эффективный, самостоятельный.

6. Решите правовую задачу.

Петров Иван 12 лет, находящийся под опекой своего дяди гражданина Устинова, совершил кражу личных вещей на сумму 300 рублей у соседки по коммунальной квартире Меркушиной. Вещи продал, а деньги израсходовал. Потерпевшая Меркушина обратилась в юридическую консультацию за советом, кто и в каком размере должен возместить ей причиненный ущерб. Какой ответ должны дать Меркушиной?

За действия с Ивана Петрова отвечает его опекун - гражданин Устинов, т.к. Иван несовершеннолетний ребенок. Гражданин Устинов должен возместить ущерб.

50

7. Решите логическую задачу.

В одном храме было три внешне одинаковых бога: бог Правды, который никогда не лгал, бог лжи. Который никогда не говорил правду, и бог Дипломатии, который мог как сказать правду, так и солгать. Как узнать кто из них кто? Один человек сделал это так.

«Кто стоит рядом с тобой?»- спросил он у бога слева. «Бог Правды».

«А кто ты?»- спросил он у среднего бога. «Бог Дипломатии».

«А кто стоит рядом с тобой?»- спросил он бога справа. «Бог Лжи».

«Тогда все понятно», - сказал человек.

Что же понял этот человек из ответов богов?

Сивер - Бог Финикийцев, посредник - Бог Правды, Сирейя - Бог Истины.

8. Решите кроссворд.



95

По горизонтали:

1. Процесс приобретения знаний о мире, приобщения к культуре, к ценностям человеческого общества. *Образ.*
3. Человек как социальное существо с присущими ему чертами и отношениями, проявляющиеся в системе общественных взаимоотношений. *личн.*
5. Предоставление денег или товаров в долг на определенный срок, как правило, с уплатой процентов, на условиях возвратности. *кред.*
9. Высший орган исполнительной власти в стране.
10. Место купли-продажи товаров и услуг или совокупность экономических отношений, проявляющихся в сфере обмена товаров и услуг. *рынк.*

По вертикали:

2. Внешние формы поведения человека, получающие положительную или отрицательную оценку окружающих. *икона.*
4. Сочетание устойчивых черт, особенностей личности, определяющих поведение человека. *харак.*
6. Финансовый документ, составляемый в виде баланса доходов и расходов государства.
7. Необходимое для жизни человека, нужда в чем-либо.
8. Устойчивая общность людей, сложившаяся исторически на основе единой этнической судьбы, общности языка, особенностей культуры, чаще всего объединенная общностью территории и экономической жизни.

675
87%

81,4%

08-17

**ВСЕРОССИЙСКАЯ ОЛИМПИАДА ШКОЛЬНИКОВ
 ОБЩЕСТВОЗНАНИЕ
 2017-2018 УЧЕБНЫЙ ГОД
 ШКОЛЬНЫЙ ЭТАП
 8 КЛАСС**

Время на выполнение работы 60 минут.

1. «Да» или «нет»? Если вы согласны с утверждением напишите «Да», если не согласны напишите «Нет». Внесите свои ответы в таблицу.

- 1) Ограниченность экономических ресурсов на планете порождает необходимость решения человеком проблемы их рационального использования.
- 2) Взаимодействие отдельных людей, социальных групп образует социальную структуру общества.
- 3) В современном мире растет число разводов.
- 4) Основным мотивом, побуждающим человека к деятельности, является его желание удовлетворить свои потребности.
- 5) Россия является парламентской республикой.

85

1	2	3	4	5
да	да	нет	да	да

2. Выберите несколько верных ответов в каждом задании и занесите свой ответ в таблицу.

2.1. С повышением социального статуса у индивида неизбежно возрастает количество

- 1) прав
- 2) знаний
- 3) учеников
- 4) обязанностей
- 5) свободного времени

2.2. Что из перечисленного характеризует традиционное общество?

- а) производство ориентировано не на объёмы, а на качество продукции, на потребителя;
- б) семья является основной производственной ячейкой общества;
- в) большинство населения занято в промышленном производстве;
- г) широкое применение механизмов, облегчающих труд;
- д) в центре социальной организации находятся церковь и армия;
- е) природные факторы в большей степени влияют на развитие экономики

2.3. Ниже перечислены слова, образованные от латинского корня. Укажите слово, которое для римлян и для писавших на латыни имело значение, близкое по смыслу к современному понятию «культура».

- а) цивилизация;
- б) гуманизм;
- в) публичность;
- г) полиция.

05

2.1.	2.2.	2.3.
4; 1; 2	а, б, в, г, е	а

Установите соответствие между видами деятельности человека и особенностями проявления этих видов деятельности. Внеси свои ответы в таблицу.

Вид деятельности

Особенности проявления вида деятельности

- А) игра
Б) труд

- 1) наличие воображаемой обстановки
2) ориентация на удовлетворение материальных потребностей
3) условный характер
4) использование инструментов

45

А	Б
1; 3	2; 4

4. Распределите следующие термины по двум колонкам таблицы. В первую поместите явления, принадлежащие природе, а во вторую — явления человеческой культуры.

- 1) Река; 2) Стон; 3) Аромат; 4) Канал; 5) Запах; 6) Наконечник стрелы; 7) Слово; 8) Кусок кварца.

145

Явления природы	Явления культуры
1; 2; 5; 8	6; 7; 4; 3

5. Заполните пропуски слов в тексте. Нужные слова даны в приведенном ниже списке. Будьте внимательны: в списке могут быть лишние слова.

Всем живым существам присуща (1) активность. У животных и человека она проявляется в определенном (2) поведении. Поведение животных основано на (3) инстинкте. Поведение человека, в отличие от животного, основано на разуме, а потому является (4) произвольным. Оно может направляться как другими людьми так и самим человеком. В основе поведения человека, направленного на достижение цели, всегда лежит определенный (5) мотив. Сознательное действие человека в отношении других людей, связанное с его моральным выбором, называется (6) поступком. Свободный выбор сложен, потому что связан с несением (7) ответственности.

145

Слова: волевой, произвольный, активность, поведение, инстинкт, произвольный, агрессивный, мотив, ответственность, поступок, эффективный, самостоятельный.

6. Решите правовую задачу.

Петров Иван 12 лет, находящийся под опекой своего дяди гражданина Устинова, совершил кражу личных вещей на сумму 300 рублей у соседки по коммунальной квартире Меркушиной. Вещи продал, а деньги израсходовал. Потерпевшая Меркушина обратилась в юридическую консультацию за советом, кто и в каком размере должен возместить ей причиненный ущерб. Какой ответ должны дать Меркушиной?

До 14 лет уголовную ответственность несут опекуны и возместить ущерб будут они

58

7. Решите логическую задачу.

В одном храме было три внешне одинаковых бога: бог Правды, который никогда не лгал, бог лжи. Который никогда не говорил правду, и бог Дипломатии, который мог как сказать правду, так и солгать. Как узнать кто из них кто? Один человек сделал это так.

«Кто стоит рядом с тобой?»- спросил он у бога слева. «Бог Правды».

«А кто ты?»- спросил он у среднего бога. «Бог Дипломатии».

«А кто стоит рядом с тобой?»- спросил он бога справа. «Бог Лжи».

«Тогда все понятно», - сказал человек.

...же понял этот человек из ответов богов?


08-17

~~08-17~~

05

Бога правды, ко... сказав правду, Бог мне сказал что он Бог правды, но это не так. Известны Бог правды и истины, а 3 метода исключения

8. Решите кроссворд.



85

575
81,4%

По горизонтали:

1. Процесс приобретения знаний о мире, приобщения к культуре, к ценностям человеческого общества.
3. Человек как социальное существо с присущими ему чертами и отношениями, проявляющиеся в системе общественных взаимоотношений.
5. Предоставление денег или товаров в долг на определенный срок, как правило, с уплатой процентов, на условиях возвратности.
9. Высший орган исполнительной власти в стране.
10. Место купли- продажи товаров и услуг или совокупность экономических отношений, проявляющихся в сфере обмена товаров и услуг.

По вертикали:

2. Внешние формы поведения человека, получающие положительную или отрицательную оценку окружающих.
4. Сочетание устойчивых черт, особенностей личности, определяющих поведение человека.
6. Финансовый документ, составляемый в виде баланса доходов и расходов государства.
7. Необходимое для жизни человека, нужда в чем- либо.
8. Устойчивая общность людей, сложившаяся исторически на основе единой этнической судьбы, общности языка, особенностей культуры, чаще всего объединенная общностью территории и экономической жизни.

08-16
01, 4%

ВСЕРОССИЙСКАЯ ОЛИМПИАДА ШКОЛЬНИКОВ
ОБЩЕСТВОЗНАНИЕ
2017–2018 УЧЕБНЫЙ ГОД
ШКОЛЬНЫЙ ЭТАП
8 КЛАСС

Время на выполнение работы 60 минут.

1. «Да» или «нет»? Если вы согласны с утверждением напишите «Да», если не согласны напишите «Нет». Внесите свои ответы в таблицу.

- 1) Ограниченность экономических ресурсов на планете порождает необходимость решения человеком проблемы их рационального использования.
- 2) Взаимодействие отдельных людей, социальных групп образует социальную структуру общества.
- 3) В современном мире растет число разводов.
- 4) Основным мотивом, побуждающим человека к деятельности, является его желание удовлетворить свои потребности.
- 5) Россия является парламентской республикой.

105

1	2	3	4	5
да	да	да	да	нет

2. Выберите несколько верных ответов в каждом задании и занесите свой ответ в таблицу.

2.1. С повышением социального статуса у индивида неизбежно возрастает количество

- 1) прав
- 2) знаний
- 3) учеников
- 4) обязанностей
- 5) свободного времени

2.2. Что из перечисленного характеризует традиционное общество?

- а) производство ориентировано не на объёмы, а на качество продукции, на потребителя;
- б) семья является основной производственной ячейкой общества;
- в) большинство населения занято в промышленном производстве;
- г) широкое применение механизмов, облегчающих труд;
- д) в центре социальной организации находятся церковь и армия;
- е) природные факторы в большей степени влияют на развитие экономики

2.3. Ниже перечислены слова, образованные от латинского корня. Укажите слово, которое для римлян и для писавших на латыни имело значение, близкое по смыслу к современному понятию «культура».

- а) цивилизация;
- б) гуманизм;
- в) публичность;
- г) полиция.

05

2.1.	2.2.	2.3.
4 4	2	а

Установите соответствие между видами деятельности человека и особенностями проявления этих видов деятельности. Внеси свои ответы в таблицу.

Вид деятельности

- А) игра
Б) труд

Особенности проявления вида деятельности

- 1) наличие воображаемой обстановки
2) ориентация на удовлетворение материальных потребностей
3) условный характер
4) использование инструментов

45

А	Б
1 2 3	2 4

4. Распределите следующие термины по двум колонкам таблицы. В первую поместите явления, принадлежащие природе, а во вторую — явления человеческой культуры.

- 1) Река; 2) Стон; 3) Аромат; 4) Канал; 5) Запах; 6) Наконечник стрелы; 7) Слово; 8) Кусок кварца.

Явления природы	Явления культуры
1 5 8	2 3 6 7

45

5. Заполните пропуски слов в тексте. Нужные слова даются в приведенном ниже списке. Будьте внимательны: в списке могут быть лишние слова.

Всем живым существам присуща (1) активность. У животных и человека она проявляется в определенном (2) поведении. Поведение животных основано на (3) инстинктах. Поведение человека, в отличие от животного, основано на разуме, а потому является (4) целенаправленным. Оно может направляться как другими людьми так и самим человеком. В основе поведения человека, направленного на достижение цели, всегда лежит определенный (5) выступок. Сознательное действие человека в отношении других людей, связанное с его моральным выбором, называется (6) поступком. Свободный выбор сложен, потому что связан с несением (7) ответственности.

45

Слова: волевой, произвольный, активность, поведение, инстинкт, произвольный, агрессивный, мотив, ответственность, поступок, эффективный, самостоятельный.

6. Решите правовую задачу.

Петров Иван 12 лет, находящийся под опекой своего дяди гражданина Устинова, совершил кражу личных вещей на сумму 300 рублей у соседки по коммунальной квартире Меркушиной. Вещи продал, а деньги израсходовал. Потерпевшая Меркушина обратилась в юридическую консультацию за советом, кто и в каком размере должен возместить ей причиненный ущерб. Какой ответ должны дать Меркушиной?

Ущерб гражданке Меркушиной должен возместить гражданин Устинов. Так как (Петров Иван) Петров Иван не совершил кражу и всю ответственность за нее несет опеку

55

7. Решите логическую задачу.

В одном храме было три внешне одинаковых бога: бог Правды, который никогда не лгал, бог лжи. Который никогда не говорил правду, и бог Дипломатии, который мог как сказать правду, так и солгать. Как узнать кто из них кто? Один человек сделал это так.

«Кто стоит рядом с тобой?»- спросил он у бога слева. «Бог Правды».


«А кто ты?»- спросил он у среднего бога. «Бог Дипломатии».

«А кто стоит рядом с тобой?»- спросил он бога справа. «Бог Лжи».

«Тогда все понятно», - сказал человек.

05

8. Решите кроссворд.



05

По горизонтали:

1. Процесс приобретения знаний о мире, приобщения к культуре, к ценностям человеческого общества.
3. Человек как социальное существо с присущими ему чертами и отношениями, проявляющиеся в системе общественных взаимоотношений.
5. Предоставление денег или товаров в долг на определенный срок, как правило, с уплатой процентов, на условиях возвратности.
9. Высший орган исполнительной власти в стране.
10. Место купли- продажи товаров и услуг или совокупность экономических отношений, проявляющихся в сфере обмена товаров и услуг.

По вертикали:

2. Внешние формы поведения человека, получающие положительную или отрицательную оценку окружающих.
4. Сочетание устойчивых черт, особенностей личности, определяющих поведение человека.
6. Финансовый документ, составляемый в виде баланса доходов и расходов государства.
7. Необходимое для жизни человека, нужда в чем- либо.
8. Устойчивая общность людей, сложившаяся исторически на основе единой этнической судьбы, общности языка, особенностей культуры, чаще всего объединенная общностью территории и экономической жизни.

435
61,4%